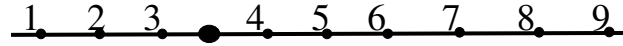


حلول سلسلة تمارين فصل 10: الطفرات

تمرين 1:

لدينا الترتيب العادي المفترض لجينات أهد كروموسومات الدروسوفيل:



ويمكن تسمية التغيرات الكروموسومية على النحو التالي:

مصطلح التسمية	تسمية الطفرات (التغيرات التركيبية)	الحالة
Inversion	انقلاب للقطعة -5-6-7-	أ
Deletion	فقد للقطعة المشتملة للموقع -5-	ب
Inversion	انقلاب سنتر وميري للقطعة -2-3-●-4-5-6-	ج
Duplication	تضاعف للقطعة المشتملة للموقع -6-	د

تمرين 2:

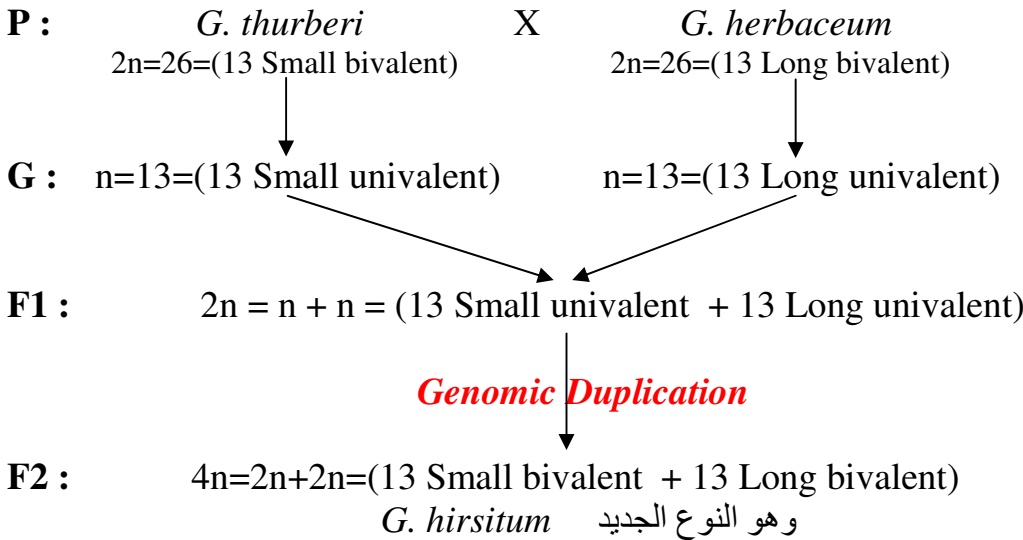
لدينا: - نوع القطن الجديد *Gossypium hirsutum*، وصيغته الصبغية $4n=52$.
- والنوعين القديمين *G. thurberi* و *G. herbaceum* بهما $2n=26$.

ولدينا التهجينات المجراة:

- G. hirsutum* X *G. thurberi* → (13 Small bivalent + 13 Long univalent)
G. hirsutum X *G. herbaceum* → (13 Small univalent + 13 Long bivalent)
G. thurberi X *G. herbaceum* → (13 Small univalent + 13 Long univalent)

من التهجين الأول والثاني نستنتج أن نوعي القطن القديمين *G. thurberi* و *G. herbaceum* يمتلكان 13 زوج كروموسومي قصير و13 زوج كروموسومي طويل على الترتيب. بينما نوع القطن الجديد الرباعي *G. hirsutum* فله 13 زوج كروموسومي طويل و13 زوج كروموسومي قصير.

وعليه يمكن توضيح العلاقة التطورية بين هذه الأنواع الثلاثة وفق مخطط التهجين الموالي:



تمرين 3:

لدينا الصيغة الصبغية للشوفان الحبشي الرباعي (*Avena abyssinica*) هي: $4n=28$ ، وبالتالي فالصيغة الصبغية للشوفان المنزرع السداسي (*Avena sativa*) تكتب بالشكل: $6n=42$.

تمرين 4:

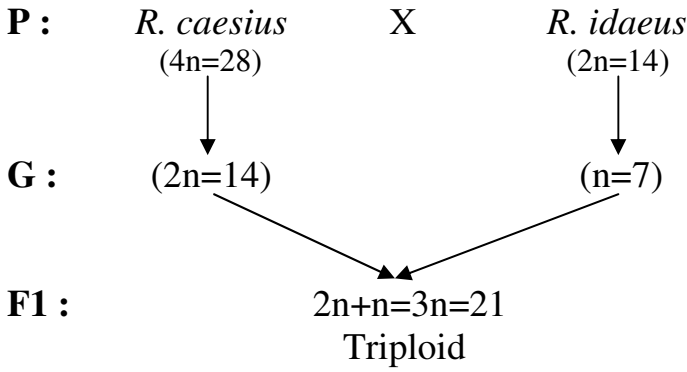
يمكن أن نستنتج الصيغة الصبغية للنوعي النباتيين:

- توتة العليق الأوروبي (*Rubus idaeus*): $2n=14$ ،

- والنوع (*R. caesius*): $4n=28$

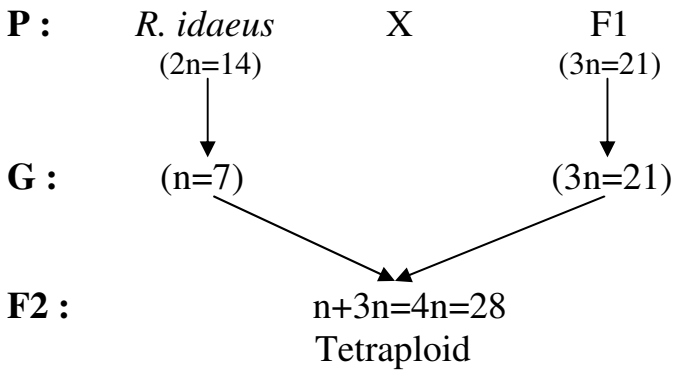
- تحديد عدد الكروموسومات و درجة التعدد الصبغي للأفراد الناتجة عن التهجين الأول:

- *R. caesius* X *R. idaeus* = F1

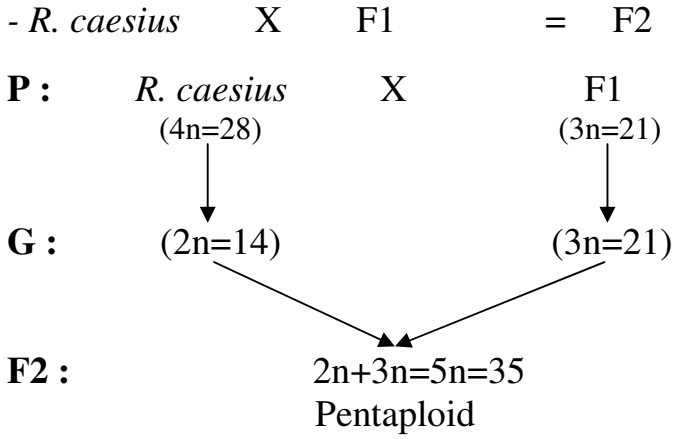


- تحديد عدد الكروموسومات و درجة التعدد الصبغي للأفراد الناتجة عن التهجين الثاني:

- *R. idaeus* X F1 = F2

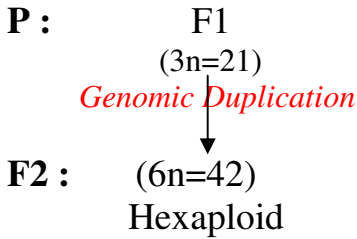


- تحديد عدد الكروموسومات و درجة التعدد الصبغي للأفراد الناتجة عن التهجين الثالث:



- تحديد عدد الكروموسومات و درجة التعدد الصبغي للأفراد الناتجة عن التهجين الرابع:

- Amphidiploid of F1



تمرين 5:

لدينا الصيغة الصبغية لنبات البازلاء (*Pisum sativum*) 2n=14.

نفترض أن أزواج كروموسومات البازلاء هي:

AA, BB, CC, DD, EE, FF, GG

أ. نستطيع أن نشكل 7 حالات مختلفة من ثلاثيات الكروموسومات (Trisomy : 2n+1)، وهي:

- **Trisomy A** : AAA, BB, CC, DD, EE, FF, GG
- **Trisomy B** : AA, BBB, CC, DD, EE, FF, GG
- **Trisomy C** : AA, BB, CCC, DD, EE, FF, GG
- **Trisomy D** : AA, BB, CC, DDD, EE, FF, GG
- **Trisomy E** : AA, BB, CC, DD, EEE, FF, GG
- **Trisomy F** : AA, BB, CC, DD, EE, FFF, GG
- **Trisomy G** : AA, BB, CC, DD, EE, FF, GGG

ب. نستطيع أن نشكل 21 حالة مختلفة من ثلاثيات الكروموسومات المزدوجة (Double Trisomy : 2n+1+1)، ويمكن سرد ثنائيات الكروموسومات الإضافية فيما يلي:

(A, B), (A, C), (A, D), (A, E), (A, F), (A, G)
 ----- (B, C), (B, D), (B, E), (B, F), (B, G)
 ----- (C, D), (C, E), (C, F), (C, G)
 ----- (D, E), (D, F), (D, G)
 ----- (E, F), (E, G)
 ----- (F, G)

كما يمكن إيجاد عدد الحالات المحتملة من خلال معادلة التوفيقات C_k^n كالتالي:

$$C_k^n = \frac{n!}{k!(n-k)!} = \frac{7!}{2!(7-2)!} = 21$$

تمرين 6:

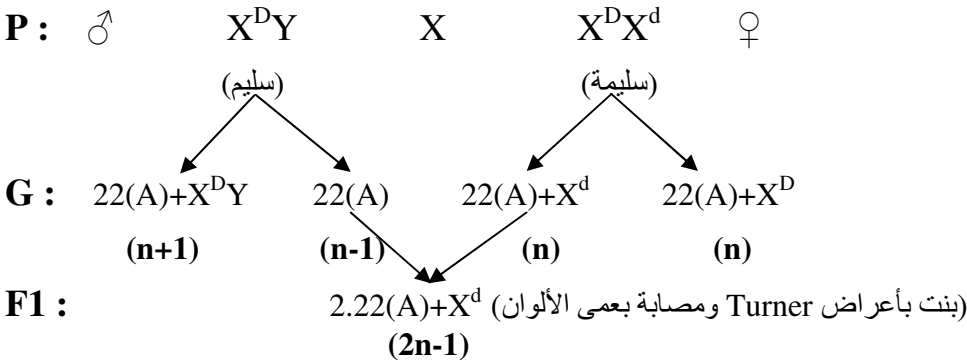
- الصيغة الصبغية لخلية جسمية للإنسان العادي هي: $2n=46$ ، أما عدد كروموسومات حالات التمرين فهي ضمن الجدول الموالي:

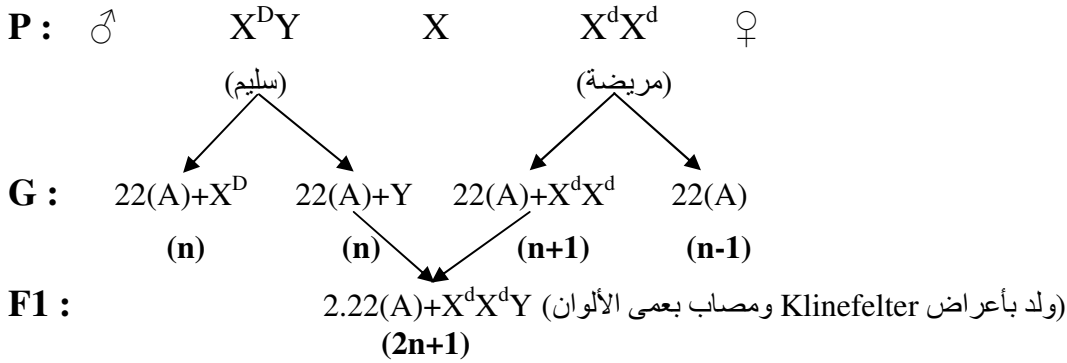
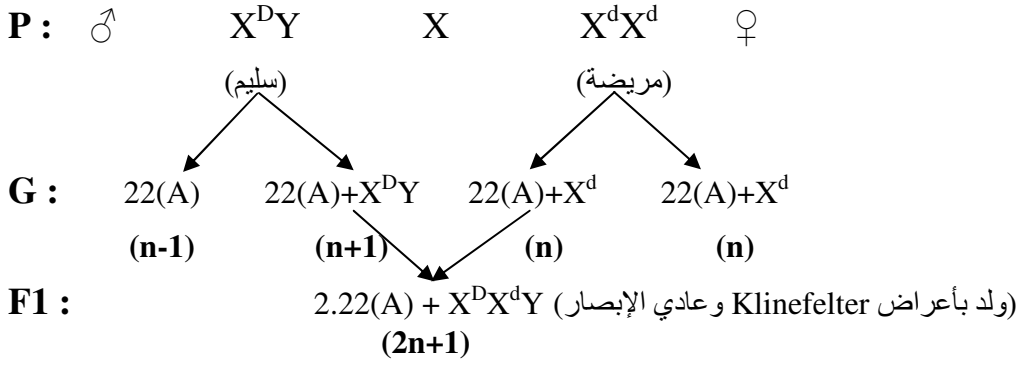
الحالة الوراثية	العدد الكروموسومي
Monosomy	$2n-1=45$
Trisomy	$2n+1=47$
Tetrasomy	$2n+2=48$
Double trisomy	$2n+1+1=48$
Nullisomy	$2n-2=44$
Monoploid (فرضا)	$n=23$
Autotriploid (فرضا)	$3n=69$

تمرين 7:

لدينا: - الصيغة الصبغية لأنثى حالة Turner: $2n-1=2.22(A)+X=45$
 - الصيغة الصبغية لذكر حالة Klinefelter: $2n+1=2.22(A)+XXY=47$
 - الصيغة الصبغية لذكر حالة Down: $2n+1=(44+1)A+XY=47$
 - عمى الألوان صفة وراثية يحكمها أليل متنحي مرتبط بالجنس (X^d).

أ. تمثيل التهجين:





د - نحدد عدد كروموسومات خلية جسمية لفرد داون - كلينفلتر من خلال الشكل الموالي:

$$(44+1)A + X^d X^d Y$$

$$2n+1+1=48$$

أي أنها حالة Double Trisomy لكل من الكروموسوم الجسمي رقم 21 والكروموسوم الجنسي X^d .