

Proposition de corrigé des

Olympiades nationales de mathématiques 2019 Orient

EXERCICES ACADÉMIQUES

Exercice 1 : Le jeu du pinto.

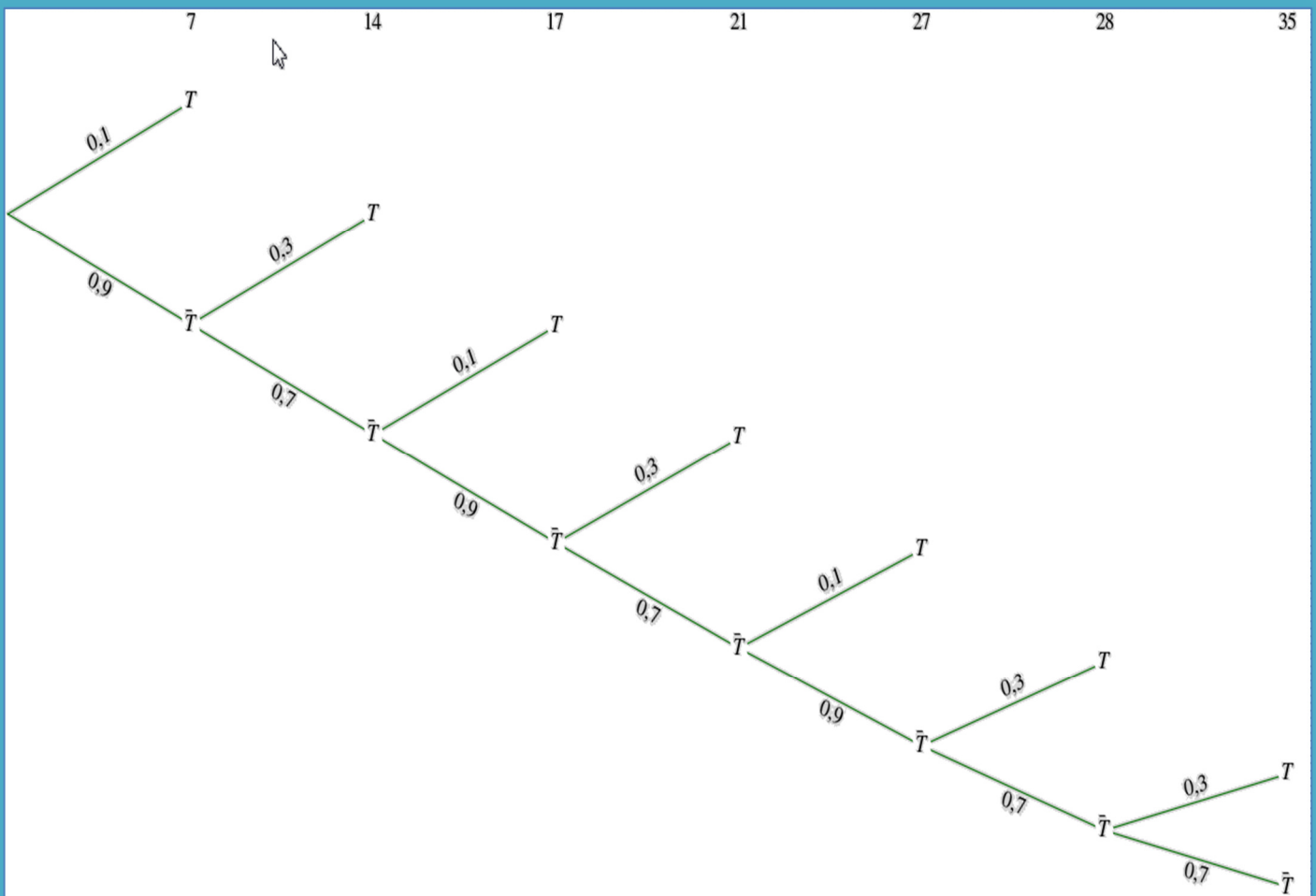
1. 1 ; 2 ; 3 ; 4 ; 5 ; 6 ; pinto ; 8 ; 9 ; 10 ; 11 ; 12 ; 13 ; pinto ; 15 ; 16 ; pinto ; 18 ; 19 ; 20 ; pinto ; 22 ; 23 ; 24 ; 25 ; 26 ; pinto ; pinto ; 29 ; 30 ; 31 ; 32 ; 33 ; 34 ; pinto ; 36 ; pinto ; 38 ; 39 ; 40 ; 41 ; 42 !!!.

2. a) Soit T l'événement : "Hugo se trompe sur un nombre pinto".

Soit X la variable aléatoire qui indique le rang du pinto où Hugo se trompe pour la première fois.

X suit donc une loi géométrique tronquée (ou plutôt une variante).

Les valeurs possibles x_i de X sont : 1,2,3,4,5,6,7,8,.....

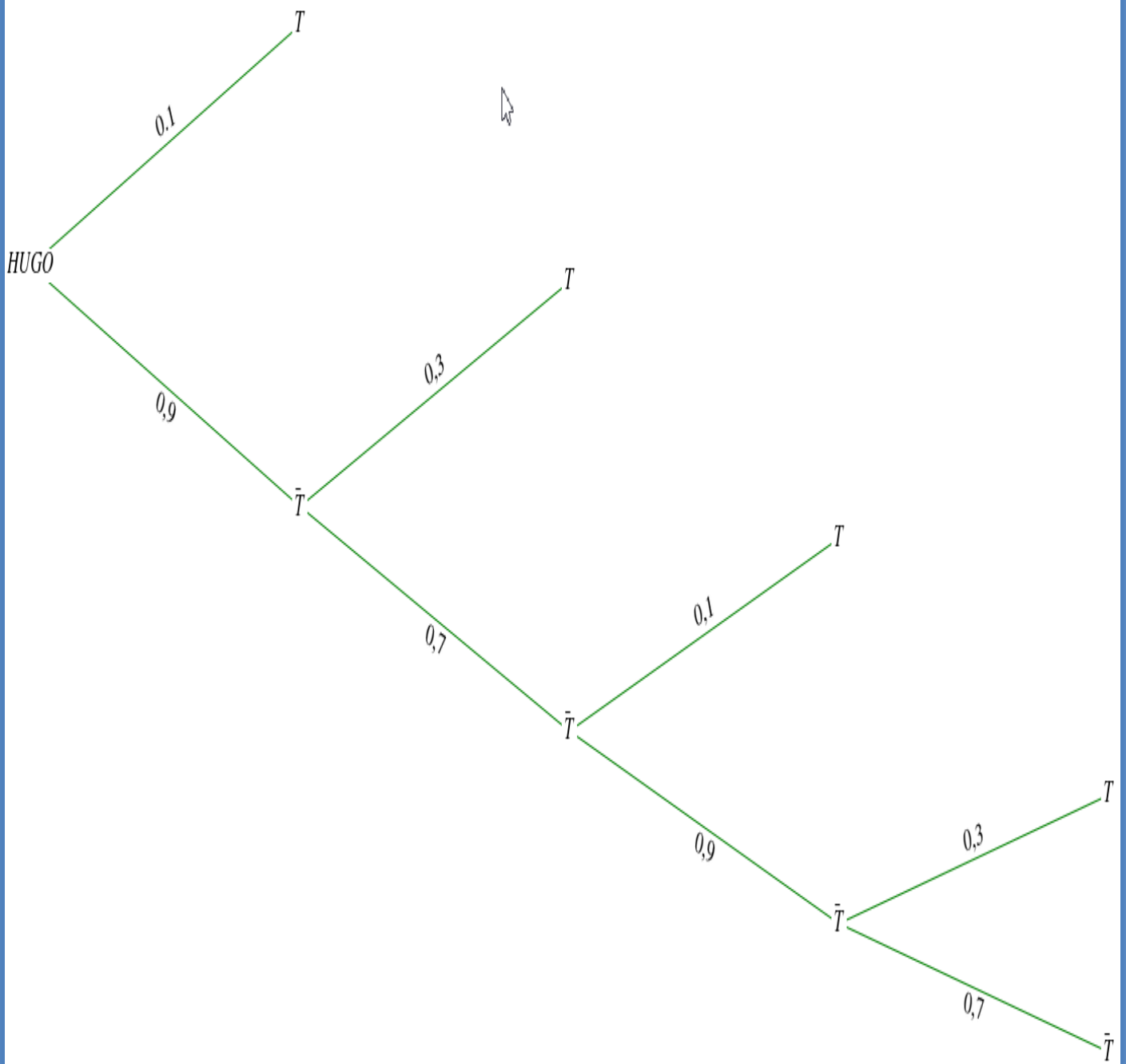


Pinto	7	14	17	21	27	28	35
x_i	1	2	3	4	5	6	7
$P(X=x_i)$	0.1	$0.9 \times 0.3 = 0.27$	$0.9 \times 0.7 \times 0.1 = 0.063$	0.1701	0.03969	0.107163	0.0750141
$P(X \leq x_i)$	0.1	0.37	0.433	0.6031	0.64279	0.749953	0.8249671

Donc, à partir de 7 nombres pintos la probabilité qu'il se trompe est supérieure à 0.75.

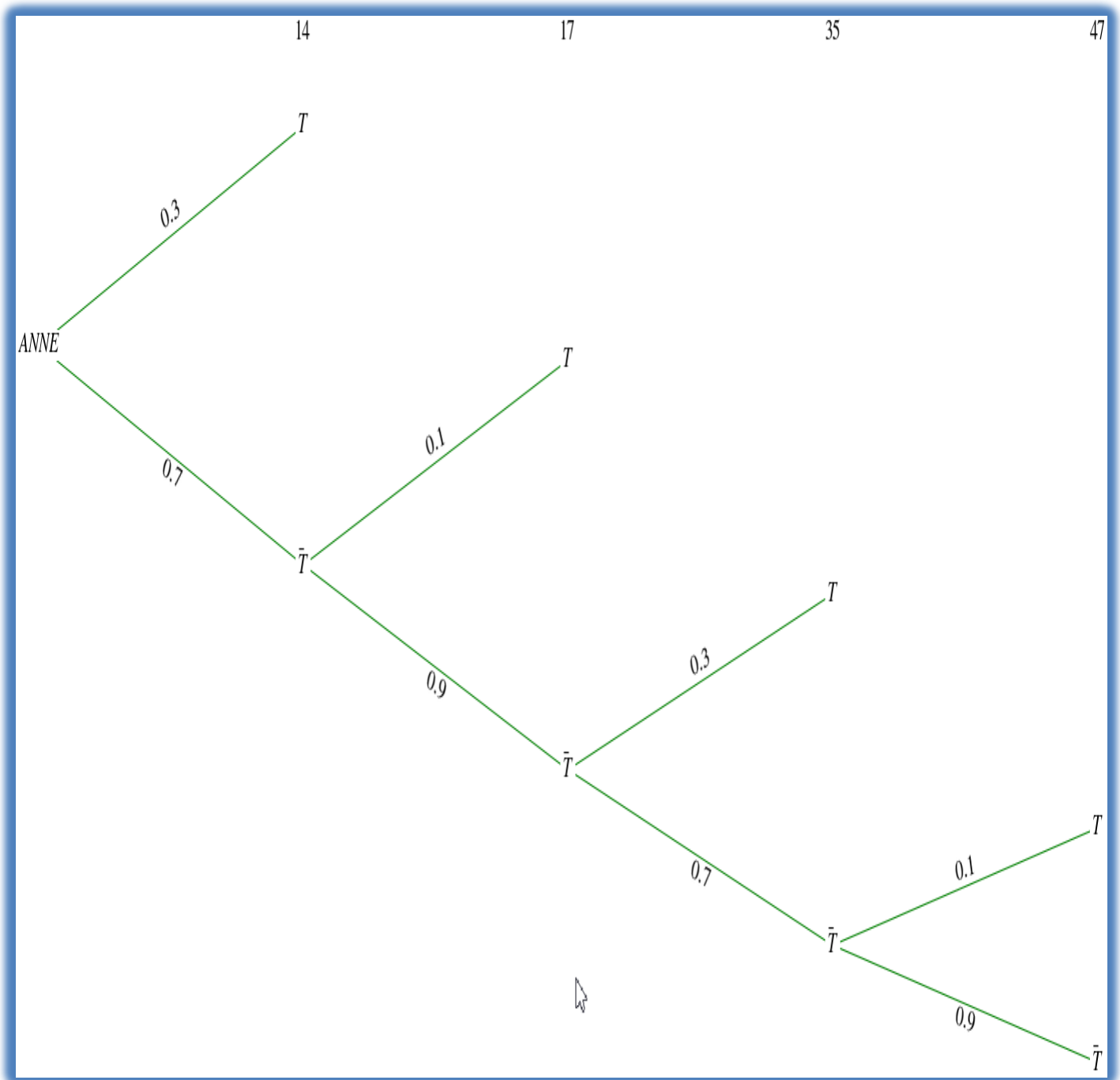
b)

Hugo	Anne	Arthur
1	2	3
4	5	6
pinto	8	9
10	11	12
13	pinto	15
16	pinto	18
19	20	pinto
22	23	24
25	26	pinto
pinto	29	30
31	32	33
34	pinto	36
pinto	38	39
40	41	pinto
43	44	45
46	pinto	48
pinto	50	



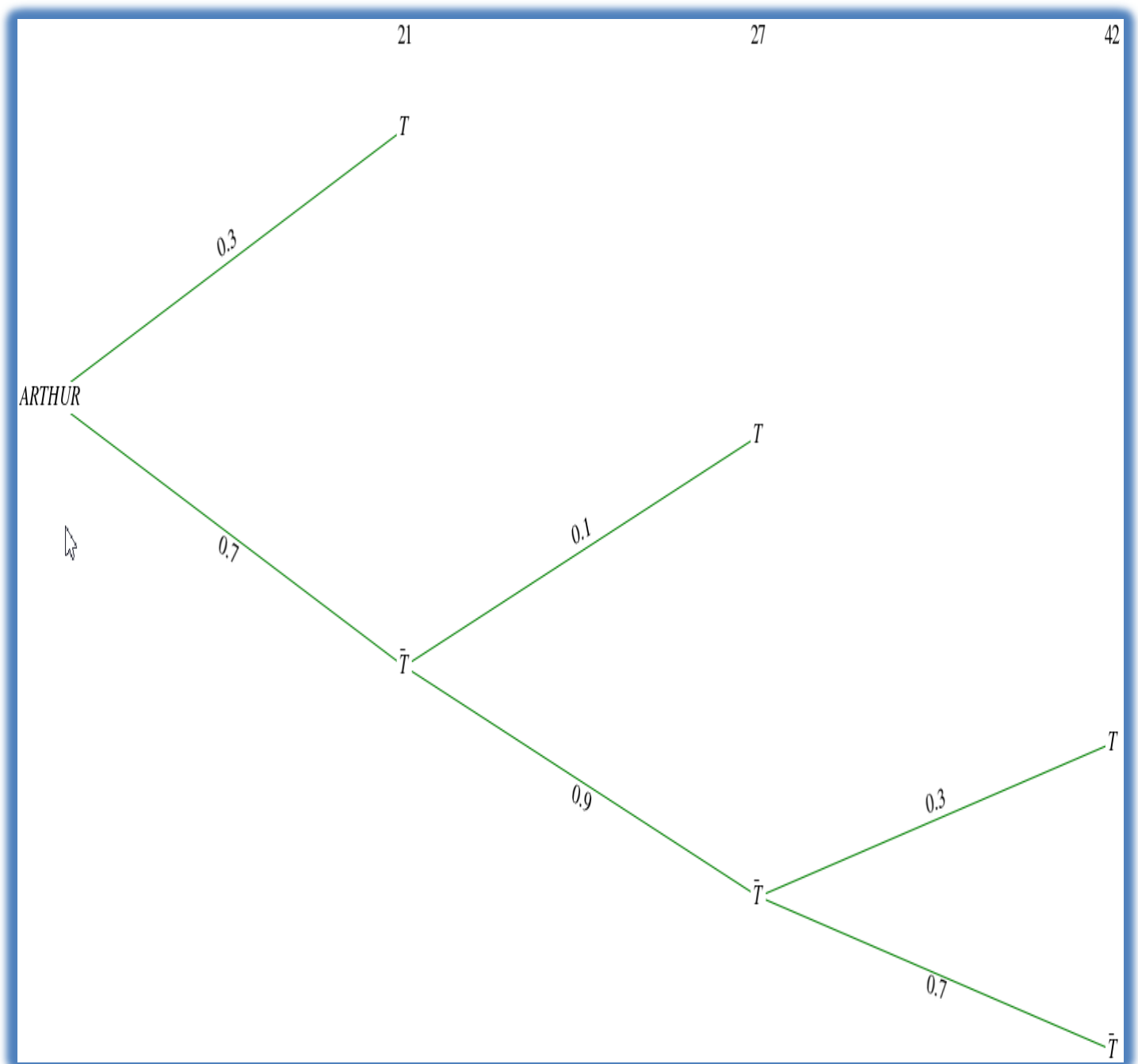
HUGO :

Pinto	7	28	37	49
x_i	1	2	3	4
$P(X=x_i)$	0.1	$0.9 \times 0.3 = 0.27$	$0.9 \times 0.7 \times 0.1 = 0.063$	0.1701
$P(X \leq x_i)$	0.1	0.37	0.433	0.6031



ANNE :

Pinto	14	17	35	47
x_i	1	2	3	4
$P(X=x_i)$	0.3	$0.7 \times 0.1 = 0.07$	$0.7 \times 0.9 \times 0.3 = 0.189$	0.0441
$P(X \leq x_i)$	0.3	0.37	0.559	0.6031



ARTHUR :

Pinto	21	27	42
x_i	1	2	3
$P(X=x_i)$	0.3	$0.7 \times 0.1 = 0.07$	$0.7 \times 0.9 \times 0.3 = 0.189$
$P(X \leq x_i)$	0.3	0.37	0.559

D'où, Arthur est le plus avantageé.

yucefnohra@gmail.com

3. fonction TestPinto(n)

Résultat \leftarrow Faux

Si Reste(n,10)=7

Résultat \leftarrow Vrai

Fin Si

Si Reste(n,7)=0

Résultat \leftarrow Vrai

Fin Si

4. u_n étant pinto et $u_{n+1} > u_n$, on peut alors distinguer les 3 cas suivants :

1^{er} cas : u_n se termine par 0,1,2,3,4,5 ou 6 cad $s_n < 7$:

Dans ce cas, u_n est forcément un pinto multiple de 7 dont le chiffre des unités est 0,1,2,3,4,5 ou 6.

Or,

Chiffre des unités de u_n	0	1	2	3	4	5	6
s_n	0	1	2	3	4	5	6
$7-s_n$	7	6	5	4	3	2	1
Chiffre des unités de u_n+7-s_n	7	7	7	7	7	7	7

Et puisque $u_n + 7 - s_n < u_n + 7$, alors $u_n + 7 - s_n$ est le pinto qui suit u_n étant compris entre les 2 multiples de 7 qui sont : u_n et $u_n + 7$.

D'où, dans ce cas $u_{n+1} = u_n + 7 - s_n$.

2^{ème} cas : u_n se termine par 7 cad $s_n = 7$:

ici on distingue deux cas :

- u_n est multiple de 7 :

Dans ce cas, $7 - s_n = 0$ et $7 - r_n = 7 - 0 = 7$, alors $u_n + 7 - r_n$ est aussi multiple de 7 et c'est le pinto qui suit u_n .

- u_n n'est pas multiple de 7 :

Dans ce ca, $7 - s_n = 0$ et $u_n = 7k + r_n$ où $0 < r_n \leq 6 \Rightarrow u_n - r_n = 7k$ multiple de 7 $\Rightarrow u_n + 7 - r_n$ est aussi multiple de 7 et c'est le pinto qui suit u_n .

D'où, dans ce cas $u_{n+1} = u_n + 7 - r_n$.

3^{ème} cas : u_n se termine par 8 ou 9 cad $s_n > 7$:

Dans ce cas, $7 - s_n < 0$ et alors u_{n+1} ne peut pas être égal à $u_n + 7 - s_n$.

En plus, dans ce cas u_n est forcément un multiple de 7, donc $r_n = 0$ et alors $u_n + 7 - r_n$ est le pinto qui suit u_n . D'où, dans ce cas $u_{n+1} = u_n + 7 - r_n$.

Par suite, la fonction suivante permet de déterminer la valeur de u_n :

fonction CalcPinto(n)

$u \leftarrow 0, a \leftarrow 0, b \leftarrow 0$

Pour i de 1 à n

Si $a < 7$

$u \leftarrow u + 7 - a$

Sinon

$u \leftarrow u + 7 - b$

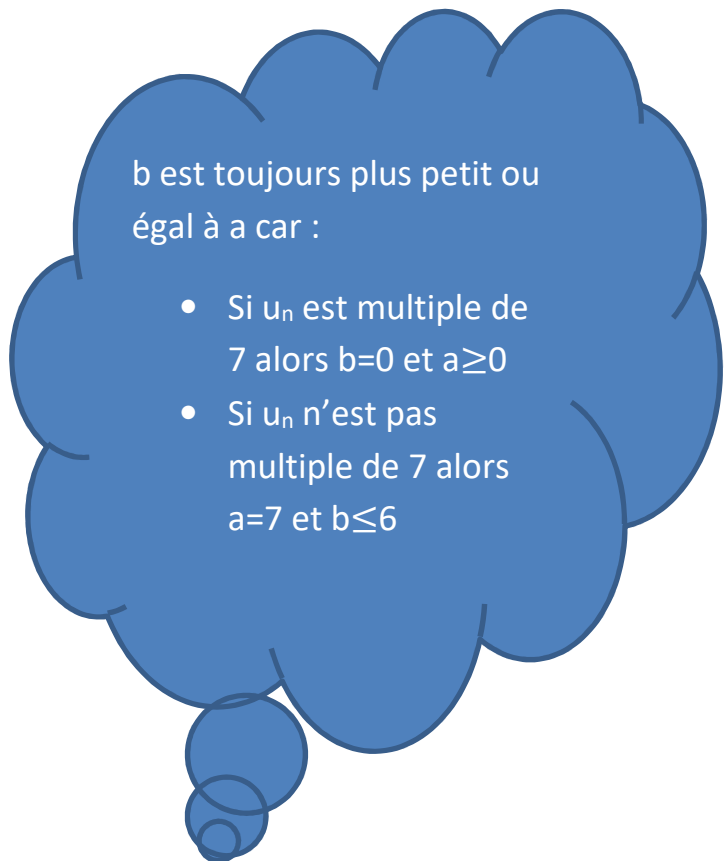
Fin Si

$a \leftarrow \text{reste}(u; 10), b \leftarrow \text{reste}(u; 7)$

Fin Pour

Voici quelques exemples à l'appui :

n	u(n)	7-r(n)	7-s(n)	b=r(n)	a=s(n)
1	7	7	0	0	7
2	14	7	3	0	4
3	17	4	0	3	7
4	21	7	6	0	1
5	27	1	0	6	7
6	28	7	-1	0	8
7	35	7	2	0	5
8	37	5	0	2	7
9	42	7	5	0	2
10	47	2	0	5	7
11	49	7	-2	0	9
12	56	7	1	0	6
13	57	6	0	1	7
14	63	7	4	0	3
15	67	3	0	4	7
16	70	7	7	0	0
17	77	7	0	0	7
18	84	7	3	0	4
19	87	4	0	3	7
20	91	7	6	0	1
21	97	1	0	6	7
22	98	7	-1	0	8
23	105	7	2	0	5
24	107	5	0	2	7
25	112	7	5	0	2
26	117	2	0	5	7
27	119	7	-2	0	9
28	126	7	1	0	6
29	127	6	0	1	7



(les multiples de 7 étant en bleu et les non multiples de 7 en jaune).

5.

V ₁	V ₂	V ₃	V ₄	V ₅	V ₆	V ₇	V ₈	V ₉	V ₁₀	V ₁₁	V ₁₂	V ₁₃	V ₁₄	V ₁₅	V ₁₆	V ₁₇	V ₁₈
7	7	3	4	6	1	7	2	5	5	2	7	1	6	4	3	7	7

qui forment vraiment un palindrome.

6. a. 1^{er} cas : ℓ est multiple de 7 $\Leftrightarrow 70k + \ell$ est multiple de 7 (70k étant multiple de 7)
 $\Leftrightarrow 70k + \ell$ est pinto (et multiple de 7).

2^{ème} cas : ℓ se termine par 7 $\Leftrightarrow 70k + \ell$ se termine par 7 (car 70k se termine par 0)
 $\Leftrightarrow 70k + \ell$ est pinto (et se termine par 7).

70 étant le premier pinto ≥ 70 et vérifiant $70 = 70 \times 1 + 0$, alors c'est le plus petit entier naturel vérifiant la propriété.

b.

n	u(n)	Q(n,16)	R(n,16)	u[R(n,16)]	n	u(n)	Q(n,16)	R(n,16)	u[R(n,16)]	n	u(n)	Q(n,16)	R(n,16)	u[R(n,16)]	n	u(n)	Q(n,16)	R(n,16)	u[R(n,16)]
1	7	0	1	7	17	77	1	1	7	33	147	2	1	7	1121	4907	70	1	7
2	14	0	2	14	18	84	1	2	14	34	154	2	2	14	1122	4914	70	2	14
3	17	0	3	17	19	87	1	3	17	35	157	2	3	17	1123	4917	70	3	17
4	21	0	4	21	20	91	1	4	21	36	161	2	4	21	1124	4921	70	4	21
5	27	0	5	27	21	97	1	5	27	37	167	2	5	27	1125	4927	70	5	27
6	28	0	6	28	22	98	1	6	28	38	168	2	6	28	1126	4928	70	6	28
7	35	0	7	35	23	105	1	7	35	39	175	2	7	35	1127	4935	70	7	35
8	37	0	8	37	24	107	1	8	37	40	177	2	8	37	1128	4937	70	8	37
9	42	0	9	42	25	112	1	9	42	41	182	2	9	42	1129	4942	70	9	42
10	47	0	10	47	26	117	1	10	47	42	187	2	10	47	1130	4947	70	10	47
11	49	0	11	49	27	119	1	11	49	43	189	2	11	49	1131	4949	70	11	49
12	56	0	12	56	28	126	1	12	56	44	196	2	12	56	1132	4956	70	12	56
13	57	0	13	57	29	127	1	13	57	45	197	2	13	57	1133	4957	70	13	57
14	63	0	14	63	30	133	1	14	63	46	203	2	14	63	1134	4963	70	14	63
15	67	0	15	67	31	137	1	15	67	47	207	2	15	67	1135	4967	70	15	67
16	70	1	0	0	32	140	2	0	0	48	210	3	0	0	1136	4970	71	0	0

Il semble que $u_n = [(\text{quotient}(u_{R_n}, 10) + 7 \times \text{quotient}(n, 16))] \times 10 + \text{reste}(u_{R_n}, 10)$.

c. $R_{9231} = \text{reste}(9231, 16) = 15 \Rightarrow u_{R_{9231}} = u_{15} = 67$.

$$\begin{aligned}
 D'o\grave{u}, u_{9231} &= [(\text{quotient}(u_{R_{9231}}, 10) + 7 \times \text{quotient}(9231, 16))] \times 10 + \text{reste}(u_{R_{9231}}, 10) \\
 &= [(\text{quotient}(67, 10) + 7 \times \text{quotient}(9231, 16))] \times 10 + \text{reste}(67, 10) \\
 &= [6 + 7 \times 576] \times 10 + 7 \\
 &= 40\,387.
 \end{aligned}$$

Exercice 2 : Les Caméléons RGB.

Partie A : étude des configurations

1. (55;0;0) , (0;55;0) et (0;0;55) signifient que tous les caméléons sont de même couleur, donc même s'ils se rencontrent leur couleur ne va pas changer. D'où, ces triplets sont stables.

2. $(23 ; 15 ; 17) \xrightarrow{\text{en croisant 2 rouges et 2 verts qui donnent lieu à 4 bleus}} (21 ; 13 ; 21) \xrightarrow{\text{en croisant 21 rouges et 21 bleus qui donnent lieu à 42 verts}} (0 ; 55 ; 0).$

3. Si 2 couleurs sont de même effectif alors ils peuvent se rencontrer 2 à 2 et changer en l'autre couleur. Ceci implique que tous les caméléons pourront être de même couleur.

4. Si la différence de 2 effectifs est multiple de 3 :

alors le triplet est par exemple de la forme

$(b+3k ; v ; b) \xrightarrow{\text{en croisant } k \text{ rouges et } k \text{ verts}} (b+2k ; v-k ; b+2k)$ avec $v > k$.

Réciproquement, si 2 effectifs sont égaux :

alors le triplet est par exemple de la forme $(b ; v ; b) =$

$(x+2k ; v ; x+2k) \xrightarrow{\text{en croisant } k \text{ verts et } k \text{ bleus}} (x+4k ; v-k, x+k)$ avec $v > k$

$\xrightarrow{\text{en croisant } k \text{ rouges et } k \text{ bleus}} (x+3k ; v+k ; x)$

5. Rouge : non car $17-15=2$ qui n'est pas multiple de 3

Bleu : non car $23-15=8$ qui n'est pas multiple de 3.

6. Pour c de 0 à 55

Pour t de 0 à 54 pas de 3

Si $55-2c-t \geq 0$

Alors Afficher (c ;c+t ;55-2c-t)

Si $c \neq c+t$

Alors Afficher (c+t ;c ;55-2c-t)

FinSi

Afficher (c ;55-2c-t ;c+t)

Si $c \neq c+t$

Alors Afficher (c+t ;55-2c-t ;c)

FinSi

Afficher (55-2c-t ;c ;c+t)

Si $c \neq c+t$

Alors Afficher (55-2c-t ;c+t ;c)

FinSi

FinSi

FinPour

FinPour

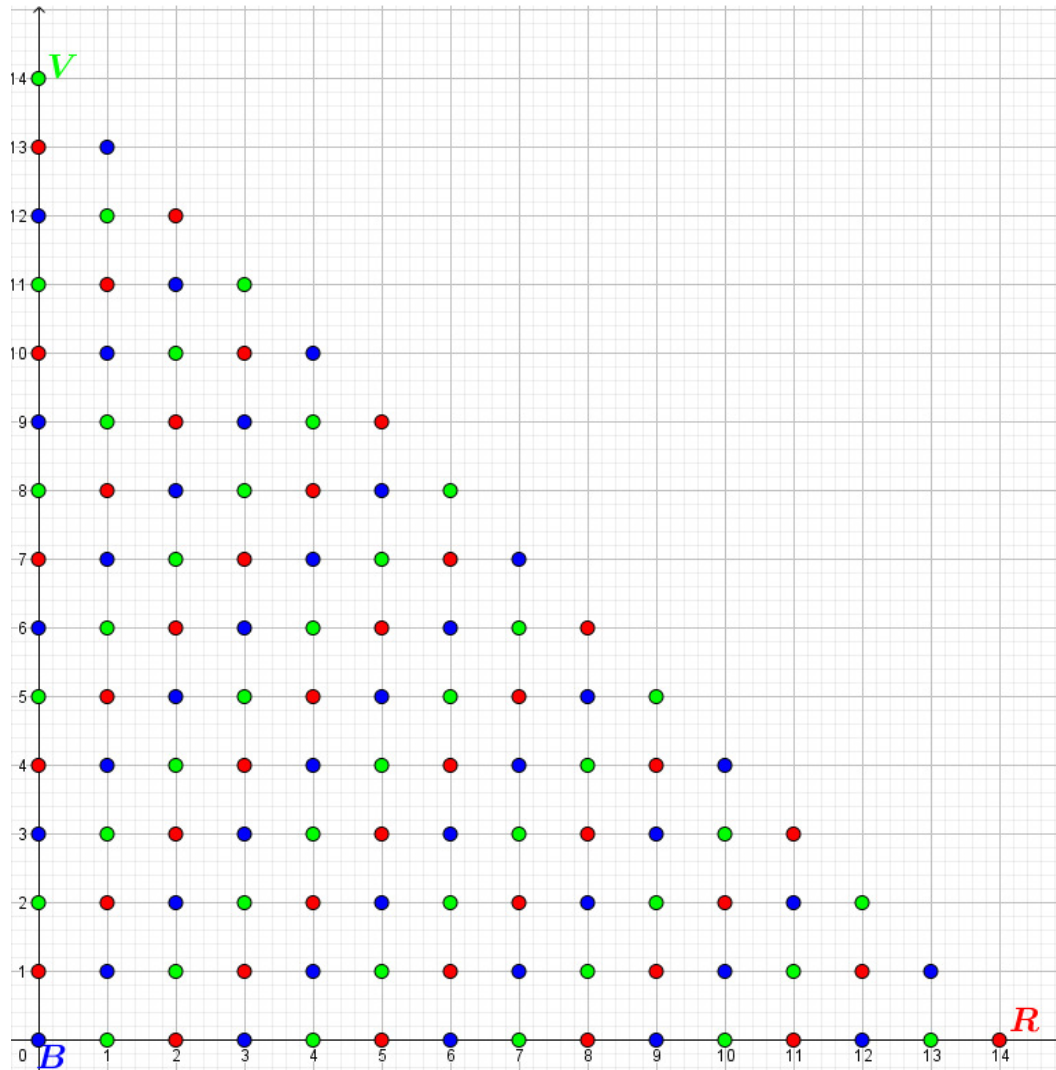
Partie B : une représentation géométrique

1. Origine de \vec{u}_1 (1;2;11) }
Extrémité de \vec{u}_1 (0;1;13) } ces 2 configurations aboutissent à une configuration stable donnant 14 rouges.

Origine de \vec{u}_2 (1;2;11) }
Extrémité de \vec{u}_2 (0;4;10) } ces 2 configurations aboutissent à une configuration stable donnant 14 rouges.

Origine de \vec{u}_3 (1;2;11) }
Extrémité de \vec{u}_3 (3;1;10) } ces 2 configurations aboutissent à une configuration stable donnant 14 rouges.

2.



3. Voir la question d'avant.

4. a) Oui, il semble que toutes les configurations mènent à une configuration stable.
 b) Non, chaque configuration mène à une et une seule configuration stable.

Partie C : étude du cas général

1. On peut toujours faire disparaître une des trois couleurs, c'est en croisant la couleur de plus faible effectif avec les autres couleurs.
2. Non pas toujours. Contre-exemple (1 ; 2 ; 3).